










Aller Anfang ist schwer! Kennst du wirklich schon alle Grundbegriffe?

Schau nochmals auf dem AB_E-1 nach, wie du mit dem Arbeitsprotokoll am bestens umgehst, es lohnt sich! Falls der Platz nicht ausreicht, verwende die Rückseite.

Punkt, Strecke, Gerade, Winkel, Parallelen

Zeichne passende Bilder Beispiel:	Ergänze die Sätze oder formuliere eigene Antworten	✓
	<p>Die Strecke ist ... (vervollständige den Satz)</p>	
	<p>Eine Gerade ist ...</p>	
	<p>Zwei Geraden schneiden sich und bilden 4 Winkel.</p>	
	<p>Rechte und gestreckte Winkel</p>	
	<p>Spitze, stumpfe und überstumpfe Winkel</p>	

	<p>Parallelen sind ... (vervollständige den Satz)</p> 	
	<p>Abstand</p> 	
	<p>Abstand zwischen Gerade und Kreis</p> 	
	<p>Abstand zwischen Parallelen</p> 	
	<p>Repetition Abstand</p> 	
	<p>Kennst du die Uhr?</p> 